

Le Canada se rassemble

Le Canada est devenu un pays le 1er juillet 1867. C'est ce qu'on appelle la **Confédération**. Le Canada, qui ne comptait alors que quatre provinces, était beaucoup plus petit qu'aujourd'hui.

Le Parlement aussi était beaucoup plus petit. En 1867, il n'y avait que 72 sénateurs et 180 députés. Aujourd'hui, le Sénat compte 105 sièges et la Chambre des communes en compte 338.

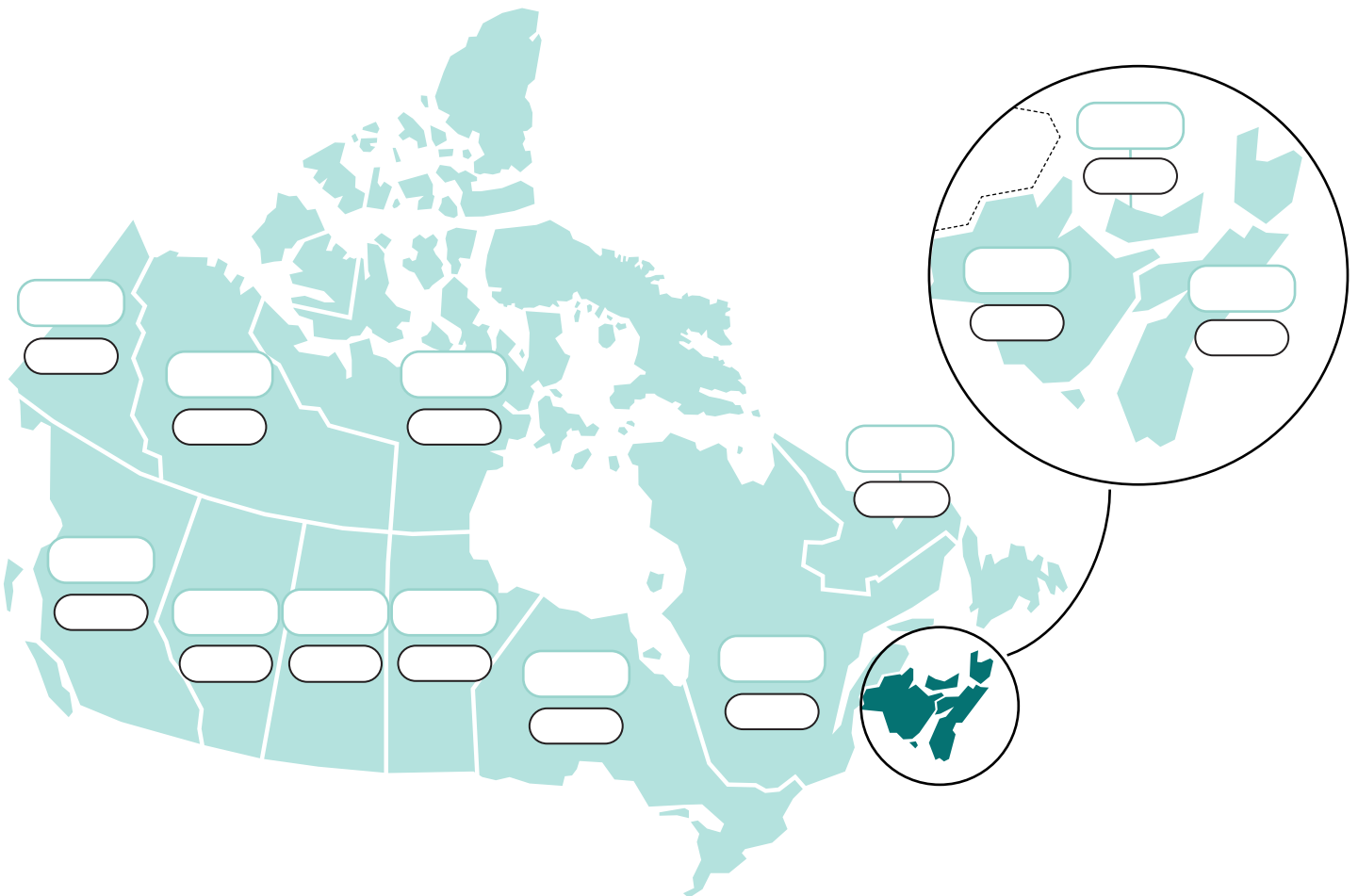
Assemble ces cartes pour tester tes connaissances sur le Canada et son Parlement!



THÈME 1 : DATES D'ENTRÉE DANS LA CONFÉDÉRATION

Sais-tu depuis quand les provinces et les territoires font partie du Canada?

Pour chacune des provinces et chacun des territoires sur la carte, indique l'abréviation appropriée et l'année de l'entrée dans la Confédération, en te servant des indices du *thème 1* à la page 4 de cette activité.



Ont. – Ontario

Yn – Yukon

N.-B. – Nouveau-Brunswick

T.-N.-L. – Terre-Neuve-et-Labrador

Qc – Québec

Alb. – Alberta

C.-B. – Colombie-Britannique

T.N.-O. – Territoire du Nord-Ouest

Nt – Nunavut

Man. – Manitoba

Sask. – Saskatchewan

Î.-P.-É. – Île-du-Prince-Édouard

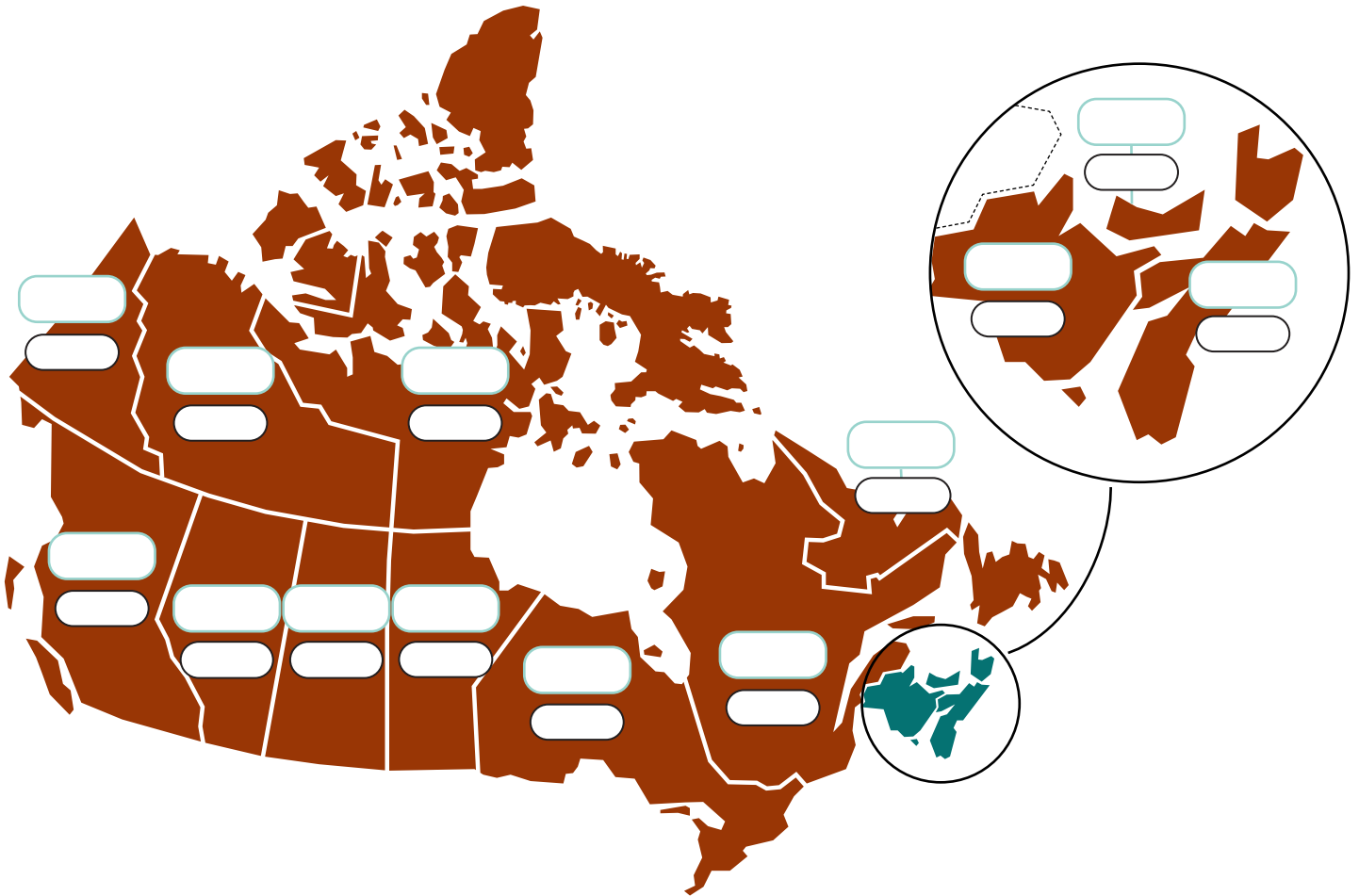
N.-É. – Nouvelle-Écosse

THÈME 2 : LE NOMBRE DE SÉNATEURS

Les sièges du Sénat sont répartis selon les **régions** du Canada. En 1867, il y avait 24 sièges pour chacune des deux plus grandes provinces et 24 sièges pour la région de l'Est. Au fil de l'évolution du pays et de la création de nouvelles provinces et territoires, d'autres sièges ont été ajoutés.

Sais-tu combien de sièges ont aujourd'hui chaque province et chaque territoire au Sénat?

Pour chacune des provinces et chacun des territoires sur la carte, indique l'abréviation appropriée et le nombre de sénateurs, en te servant des indices du thème 2 à la page 4 de cette activité.



Ont. – Ontario

Yn – Yukon

N.-B. – Nouveau-Brunswick

T.-N.-L. – Terre-Neuve-et-Labrador

Qc – Québec

Alb. – Alberta

C.-B. – Colombie-Britannique

T.N.-O. – Territoire du Nord-Ouest

Nt – Nunavut

Man. – Manitoba

Sask. – Saskatchewan

Î.-P.-É. – Île-du-Prince-Édouard

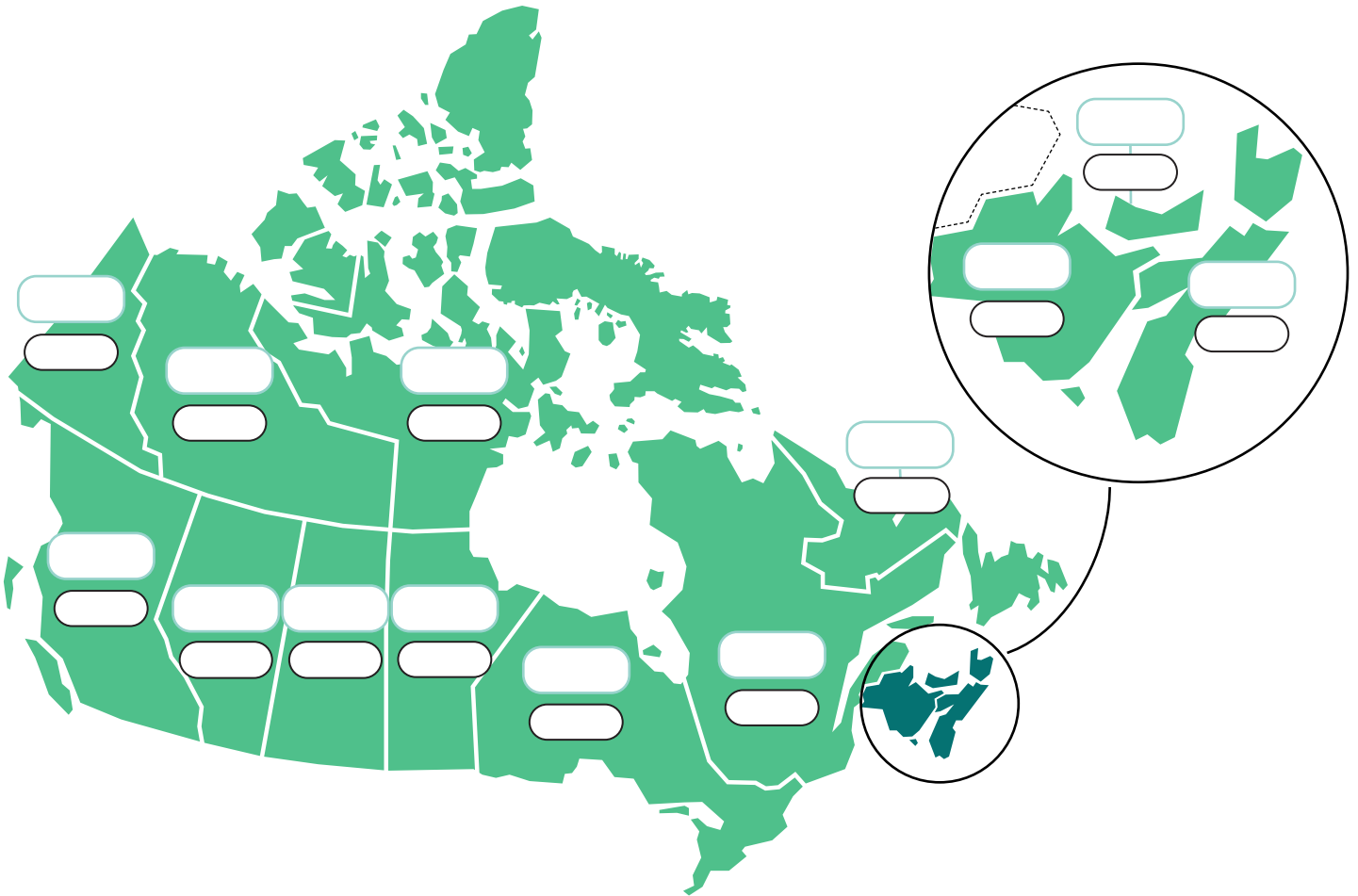
N.-É. – Nouvelle-Écosse

THÈME 3 : LE NOMBRE DE DÉPUTÉS

Les sièges de la Chambre des communes sont répartis en fonction de la **population** : chaque député représente les personnes qui vivent dans une région particulière, appelée circonscription. En 1867, la population du Canada était de 3,4 millions de personnes seulement. Aujourd'hui, c'est plus de 10 fois ce nombre!

Combien de députés y a-t-il dans chaque province et territoire aujourd'hui?

Pour chacune des provinces et chacun des territoires sur la carte, indique l'abréviation appropriée et le nombre de députés, en te servant des indices du thème 3 à la page 4 de cette activité.



Ont. – Ontario

Yn – Yukon

N.-B. – Nouveau-Brunswick

T.-N.-L. – Terre-Neuve-et-Labrador

Qc – Québec

Alb. – Alberta

C.-B. – Colombie-Britannique

T.N.-O. – Territoire du Nord-Ouest

Nt – Nunavut

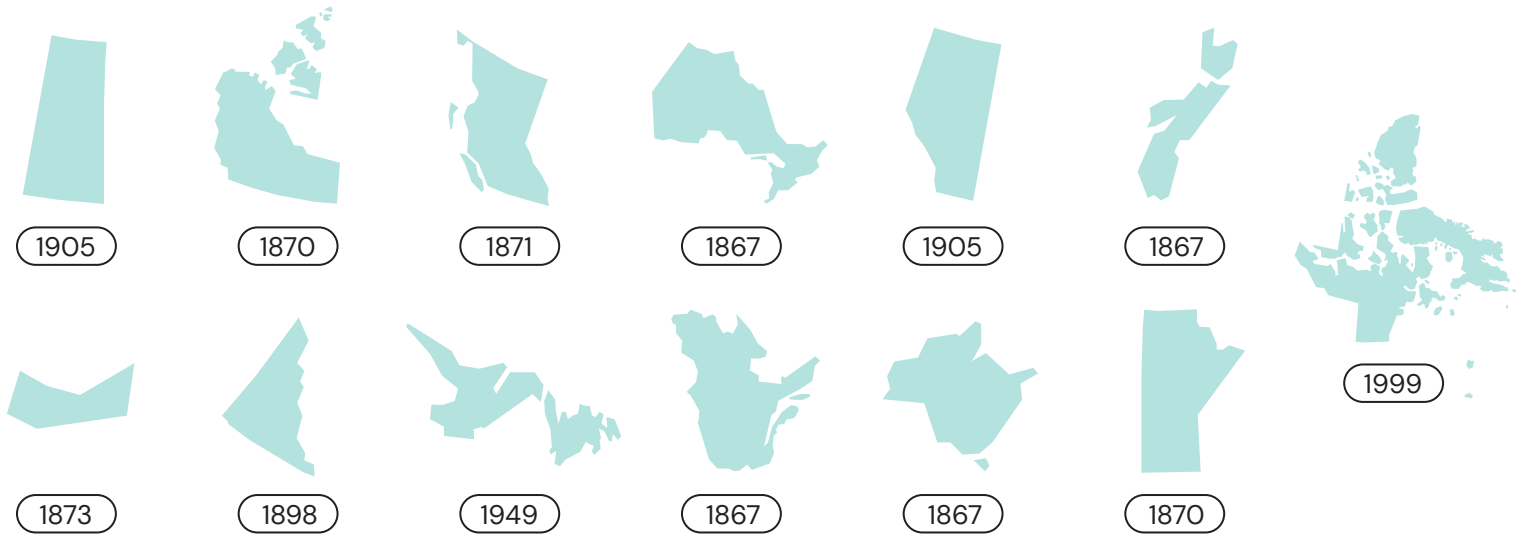
Man. – Manitoba

Sask. – Saskatchewan

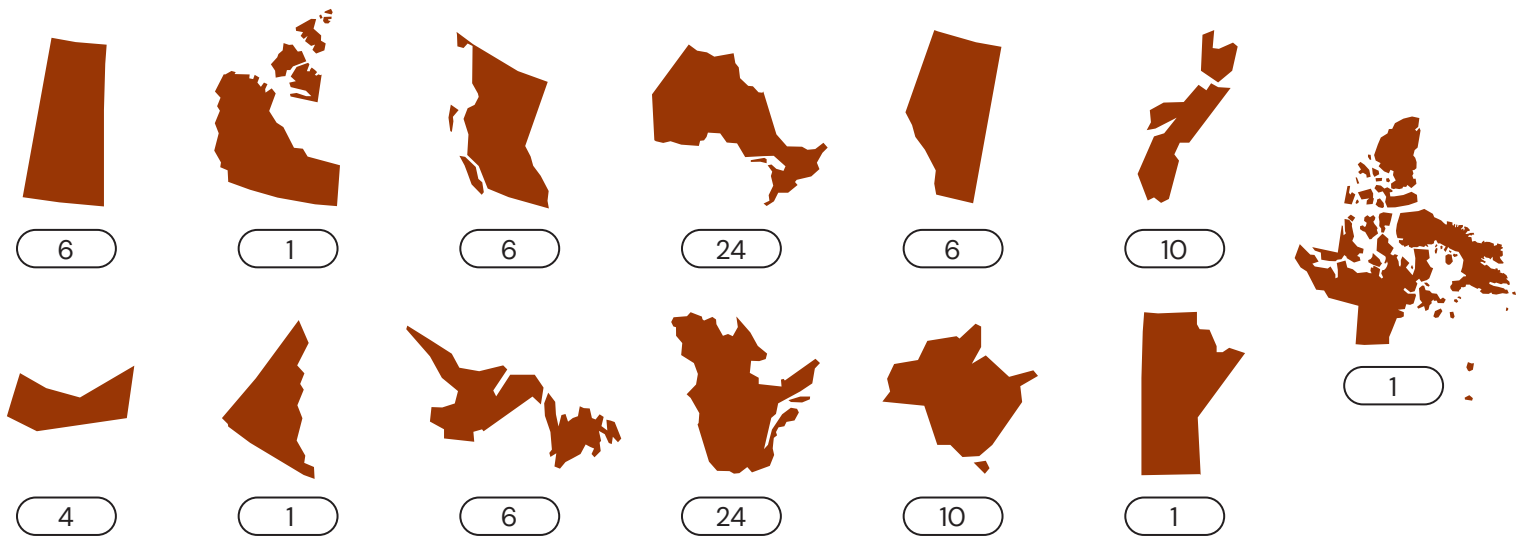
Î.-P.-É. – Île-du-Prince-Édouard

N.-É. – Nouvelle-Écosse

THÈME 1 : DATES D'ENTRÉE DANS LA CONFÉDÉRATION



THÈME 2 : LE NOMBRE DE SÉNATEURS



THÈME 3 : LE NOMBRE DE DÉPUTÉS

